


# LE THÉORÈME DE THALÈS

▶ Tout le cours sur le théorème de Thalès en vidéo : <https://youtu.be/JpU7X7AhB-A>

▶ Tout le cours sur la réciproque du théorème de Thalès en vidéo : <https://youtu.be/6d-3GHwKRc>



**Thalès** serait né autour de 625 avant J.C. à Milet en Asie Mineure (actuelle Turquie). Considéré comme l'un des sept sages de l'Antiquité, il est à la fois mathématicien, ingénieur, philosophe et homme d'Etat mais son domaine de prédilection est l'astronomie.

Il aurait prédit avec une grande précision l'éclipse du soleil du 28 mai de l'an - 585. Ce n'est peut-être qu'une légende, Thalès en explique cependant le phénomène.

Curieusement, le fameux théorème de Thalès n'a pas été découvert par Thalès. Il était déjà connu avant lui des babyloniens et ne fut démontré qu'après lui par Euclide d'Alexandrie.

*TP info : Le théorème de Thalès*

[http://www.maths-et-tiques.fr/telech/TP\\_Thales\\_gg.pdf](http://www.maths-et-tiques.fr/telech/TP_Thales_gg.pdf)

## Partie 1 : Le théorème de Thalès

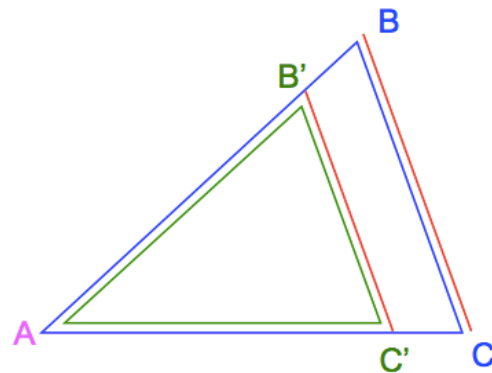
Animation : <http://www.maths-et-tiques.fr/telech/Thales4.ggb>

### LE THÉORÈME DE THALÈS

Soit deux triangles  $ABC$  et  $AB'C'$ , tels que :  
 $A, B, B'$  et  $A, C, C'$  sont alignés.

Si  $(B'C') \parallel (BC)$

$$\text{alors : } \frac{AB'}{AB} = \frac{AC'}{AC} = \frac{B'C'}{BC}$$



Comment retenir le théorème de Thalès ?

$ABC$  et  $AB'C'$  sont deux triangles en situation de Thalès : ils ont un sommet commun  $A$ , et deux côtés parallèles  $(B'C')$  et  $(BC)$ .

On obtient la formule de Thalès :

$$\frac{AB'}{AB} = \frac{AC'}{AC} = \frac{B'C'}{BC}$$

↑
↑
↑

1ers côtés
2èmes côtés
3èmes côtés

← Le petit triangle  $AB'C'$   
 ← Le grand triangle  $ABC$

Savoir utiliser : [http://www.maths-et-tiques.fr/telech/thales\\_ecrire.pdf](http://www.maths-et-tiques.fr/telech/thales_ecrire.pdf)

**Méthode :** Calculer une longueur à l'aide du théorème de Thalès

▶ Vidéo <https://youtu.be/zP16D2Zrv1A>

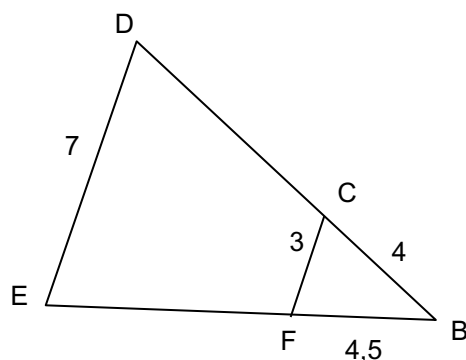
▶ Vidéo <https://youtu.be/RnN4UtfUKl8>

▶ Vidéo <https://youtu.be/hmJQNkpi0gl>

Sur la figure, les triangles  $BCF$  et  $BDE$  sont tels que  $(CF)$  et  $(DE)$  sont parallèles.

Calculer : a)  $BE$  b)  $BD$

Donner la valeur exacte et éventuellement l'arrondi au dixième.



### Correction

a) Les triangles  $BCF$  et  $BDE$  sont en situation de Thalès car  $(CF) \parallel (DE)$ , donc :

$$\frac{BC}{BD} = \frac{BF}{BE} = \frac{CF}{DE}$$

$$\frac{4}{BD} = \frac{4,5}{BE} = \frac{3}{7}$$

$$\frac{4,5}{BE} = \frac{3}{7}$$

Soit :  $BE = 4,5 \times 7 : 3 = 10,5$

$$2) \text{ On a : } \frac{4}{BD} = \frac{4,5}{BE} = \frac{3}{7}$$

$$\frac{4}{BD} = \frac{3}{7}$$

Soit :  $BD = 4 \times 7 : 3 = \frac{28}{3}$  (Valeur exacte)

$\approx 9,3$  (Valeur arrondie)


Activités de groupe : Le paradoxe de Lewis Carroll  
[http://www.maths-et-tiques.fr/telech/L\\_CARROLL.pdf](http://www.maths-et-tiques.fr/telech/L_CARROLL.pdf)

Des hauteurs inaccessibles  
[http://www.maths-et-tiques.fr/telech/haut\\_inacc.pdf](http://www.maths-et-tiques.fr/telech/haut_inacc.pdf)  
<http://www.maths-et-tiques.fr/index.php/expositions-deleves/hauteurs-inaccessibles>

## Partie 2 : La réciproque du théorème de Thalès

Animation : <http://www.maths-et-tiques.fr/telech/RThales.ggb>

### LA RÉCIPROQUE DU THÉORÈME DE THALÈS

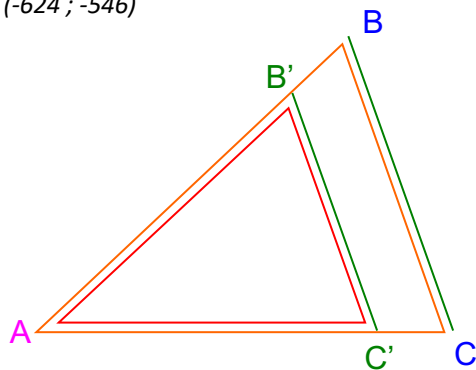


Thalès de Milet (-624 ; -546)

Si les points  $A, B, B'$  sont alignés dans le même ordre que les points  $A, C, C'$

$$\text{et } \frac{AB'}{AB} = \frac{AC'}{AC}$$

alors  $(B'C') \parallel (BC)$

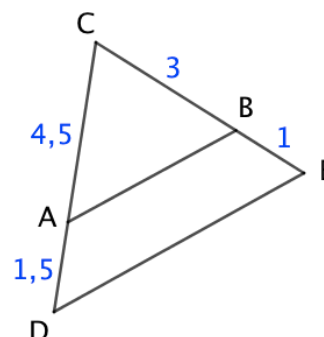


Méthode : Démontrer que deux droites sont parallèles

▶ Vidéo <https://youtu.be/U9XX5w8FeOI>

▶ Vidéo <https://youtu.be/-hb1F24QsrI>

Les droites  $(AB)$  et  $(DE)$  sont-elles parallèles ?



**Correction**

- D'une part :  $\frac{CB}{CE} = \frac{3}{3+1} = \frac{3}{4} = 0,75$

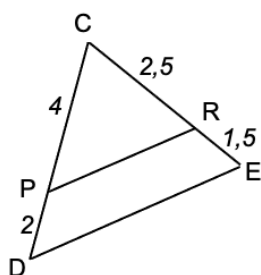
- D'autre part :  $\frac{CA}{CD} = \frac{4,5}{4,5+1,5} = \frac{4,5}{6} = 0,75$

Donc :  $\frac{CB}{CE} = \frac{CA}{CD}$

De plus, les points  $C, A, D$  sont alignés dans le même ordre que les points  $C, B, E$ .  
D'après la réciproque du théorème de Thalès, on peut conclure que les droites  $(AB)$  et  $(DE)$  sont parallèles.

**Méthode : Démontrer que deux droites ne sont pas parallèles**

▶ Vidéo <https://youtu.be/ovlhagzONlw>



Les droites  $(PR)$  et  $(DE)$  sont-elles parallèles ?

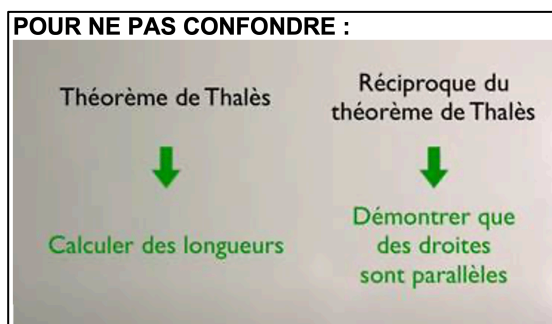
**Correction**

- D'une part :  $\frac{CP}{CD} = \frac{4}{6} \approx 0,67$

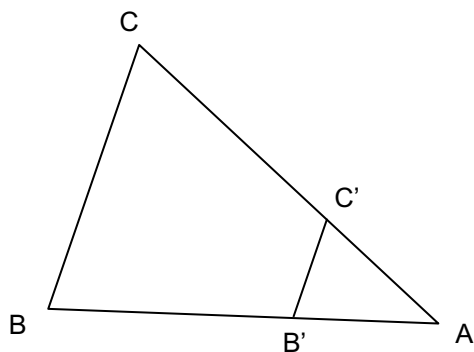
- D'autre part :  $\frac{CR}{CE} = \frac{2,5}{4} = 0,625$

Donc :  $\frac{CP}{CD} \neq \frac{CR}{CE}$

On ne peut pas utiliser la réciproque du théorème de Thalès.  
Les droites  $(PR)$  et  $(DE)$  ne sont pas parallèles.



## Partie 3 : Agrandissement et réduction



Le triangle  $AB'C'$  est une réduction du triangle  $ABC$ .

Les longueurs du triangle  $ABC$  sont multipliées par un même nombre  $k$  appelé le **coefficient de réduction**.

On a ainsi :

$$\begin{array}{lll} AB' = k \times AB & AC' = k \times AC & B'C' = k \times BC \\ k = \frac{AB'}{AB} & k = \frac{AC'}{AC} & k = \frac{B'C'}{BC} \end{array}$$

On retrouve la formule de Thalès :

$$k = \frac{AB'}{AB} = \frac{AC'}{AC} = \frac{B'C'}{BC}$$

En effet, les longueurs des côtés du triangle  $AB'C'$  sont proportionnelles aux longueurs des côtés du triangle  $ABC$ .

► Complément sur « Agrandissement et réduction » dans le chapitre ESPACE 2.



Aucune reproduction, même partielle, autres que celles prévues à l'article L 122-5 du code de la propriété intellectuelle, ne peut être faite de ce site sans l'autorisation expresse de l'auteur.

Voir le contrat : [http://ymonka.free.fr/copyright\\_mt.htm](http://ymonka.free.fr/copyright_mt.htm)